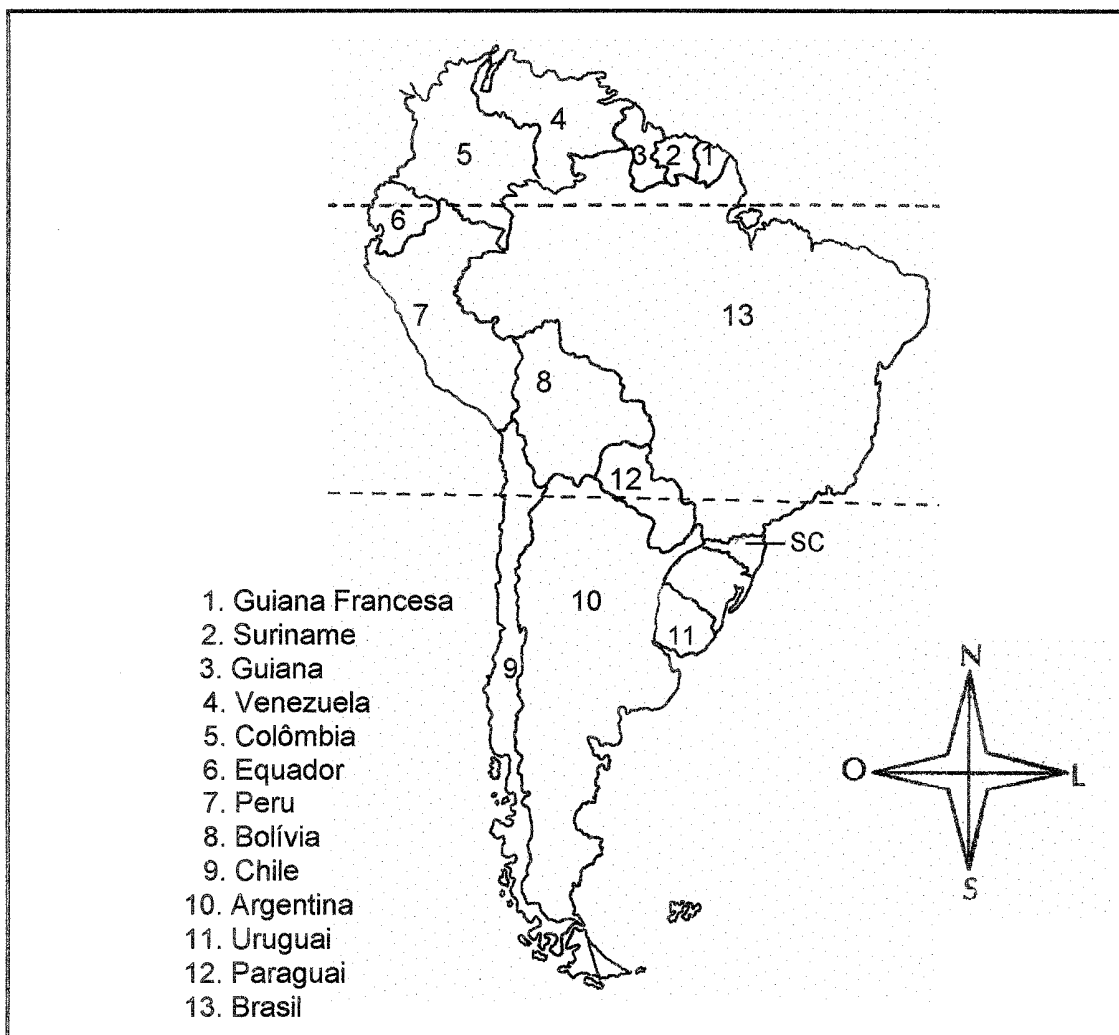
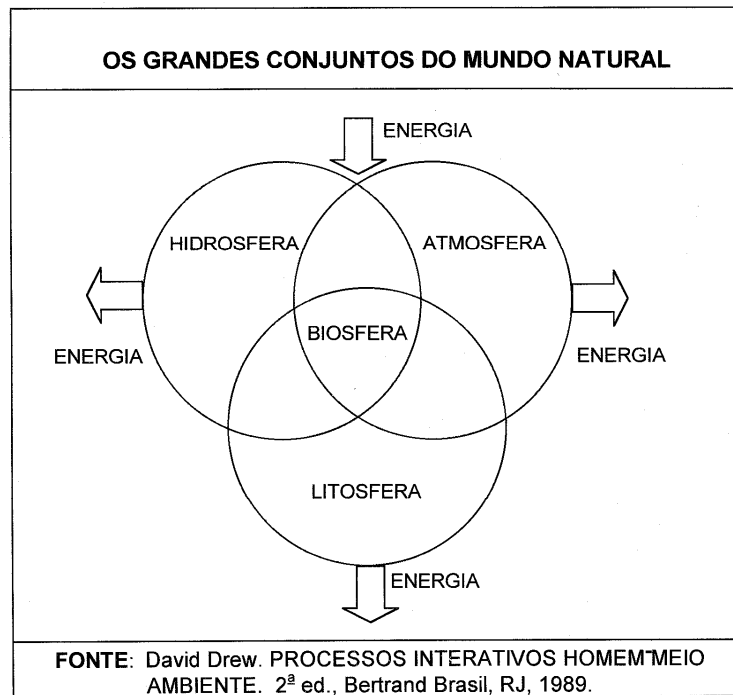


01) O mapa abaixo mostra a localização do Brasil e de Santa Catarina na América. Identifique a(s) proposição(ões) que estiver(em) de acordo com ele.



- 01. O Brasil é atravessado por dois paralelos importantes: Equador e Trópico de Capricórnio.
- 02. A maior parte das terras brasileiras estão localizadas no hemisfério meridional.
- 04. Ao considerarmos os principais paralelos, nosso país possui um clima predominantemente tropical.
- 08. Santa Catarina e o Rio Grande do Sul são os dois únicos estados situados inteiramente em área subtropical.
- 16. O Chile e o Equador são países sul-americanos que não fazem fronteiras com o Brasil.

02) A figura representa as várias esferas que constituem o nosso planeta. De acordo com ela, assinale a(s) proposição(ões) **CORRETA(S)**.



01. A figura busca demonstrar a interdependência das várias esferas ou partes do nosso planeta.
02. Os reflexos da ação do homem vão além e aquém da superfície, atingindo camadas da atmosfera e profundidades da litosfera e da hidrosfera.
04. A importância da litosfera, constituída de rochas, deve-se aos solos, minerais, energia e agentes internos.
08. A atmosfera é a camada gasosa que envolve o planeta, e, de suas partes, é a mesosfera a mais importante para nós.
16. A hidrosfera é a parte formada pelas águas, sendo que as necessidades humanas estão limitadas às partes mais superficiais.

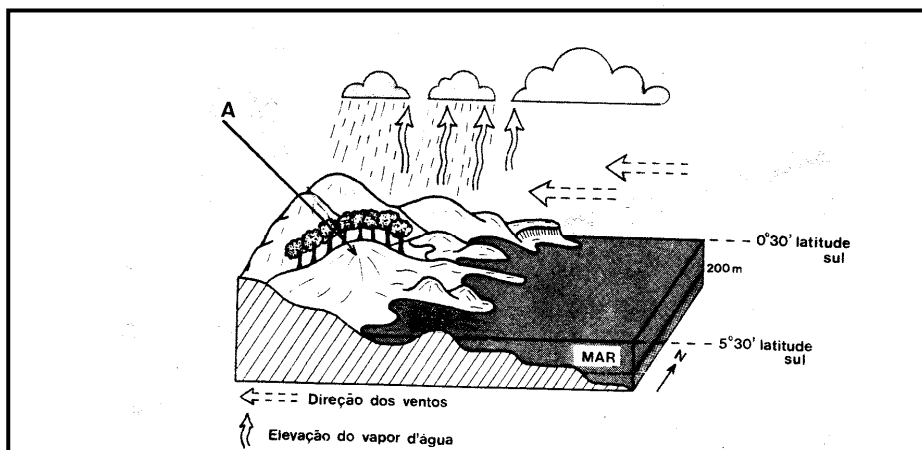
- 03)** A Terra é dinâmica. O relevo é construído e destruído continuamente pelos diferentes agentes. As proposições abaixo mostram as características da estrutura geológica do Brasil e do seu relevo.

Assinale aquela(s) que é(são) **CORRETA(S)**.

01. Os escudos ou maciços antigos estão profundamente desgastados pela erosão.
02. O território brasileiro possui uma estrutura geológica antiga.
04. O Brasil não possui movimentos geológicos recentes, como os dobramentos modernos.
08. O nosso país possui um relevo de altitudes baixas, reflexo da erosão e ausência de movimentos geológicos recentes.
16. As bacias sedimentares ocupam reduzida área e caracterizam-se pela ausência de recursos minerais.

- 04)** A ilustração apresentada abaixo, permite afirmar **CORRETAMENTE** que:

LEMBRE-SE DE **MARCAR** NO CARTÃO-RESPOSTA A **SOMA** DOS NÚMEROS ASSOCIADOS ÀS PROPOSIÇÕES VERDADEIRAS!



01. As áreas localizadas no litoral não sofrem influência marítima no que diz respeito às condições climáticas.
02. A presença de uma área montanhosa próxima ao litoral explica a ocorrência de chuvas orográficas.
04. As setas indicativas da direção dos ventos, na ilustração, demonstram que eles sopram das áreas de alta pressão, localizadas sobre o mar, para o continente.
08. A área assinalada pela letra A, em razão da sua topografia, dispensa cuidados relativos à prevenção da erosão.
16. Os elementos presentes, na ilustração, caracterizam um ambiente natural propício ao desenvolvimento de uma formação florestal xerófila.

05) Considere os versos de Asa Branca:

**Quando olhei a terra ardendo qual fogueira de São João,
Eu perguntei a Deus do céu, ai! por que tamanha judiação.
Que braseiro! Que fornalha! Nenhum pé de plantação.
Por falta d'água perdi meu gado, morreu de sede meu alazão.
Até mesmo a asa-branca bateu asas do sertão.
Então, eu disse: Adeus, Rosinha! Guarda contigo meu coração.
Hoje longe, muitas léguas, numa triste solidão,
Espero a chuva cair de novo pra eu voltar pro meu sertão.
Quando o verde dos teus olhos se espalhar na plantação,
Eu te asseguro, não chores não, viu? Eu voltarei pro meu sertão.**

Luiz Gonzaga

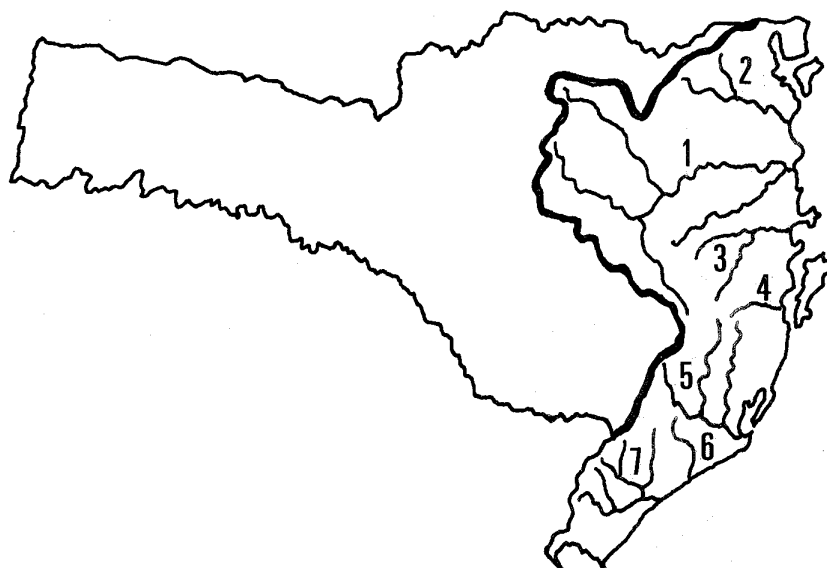
Assinale a(s) proposição(ões) VERDADEIRA(S).

01. A letra da canção popular apresentada acima descreve a vida e o ambiente natural da caatinga nordestina.
02. "Que braseiro! Que fornalha! Nenhum pé de plantação." são expressões que remetem às características do clima tropical semi-árido.
04. O cenário descrito pela canção corresponde a uma área onde a vegetação é higrófila e as chuvas bem distribuídas durante o ano inteiro.
08. Tanto a asa-branca como o sertanejo fogem desse ambiente devido aos prolongados períodos de seca.
16. A aridez do terreno e a pobreza do solo explicam a exuberância da cobertura vegetal descrita nos versos da canção.

06) Analise o mapa abaixo.

LEMBRE-SE DE MARCAR NO CARTÃO-RESPOSTA A SOMA DOS NÚMEROS ASSOCIADOS ÀS PROPOSIÇÕES VERDADEIRAS!

BACIAS HIDROGRÁFICAS DA VERTENTE DO ATLÂNTICO



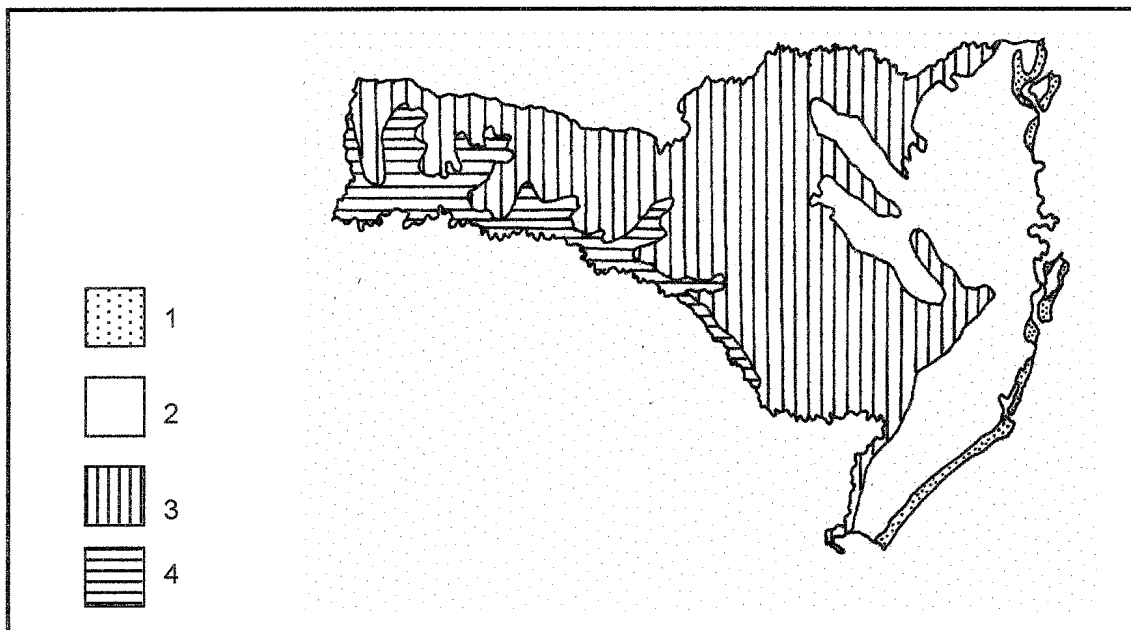
FONTE: ATLAS GEOGRÁFICO DE SANTA CATARINA (Adaptação)

Apoiado no mapa, marque a(s) proposição(ões) **VERDADEIRA(S)**.

01. Desde a sua colonização, a partir de meados do século passado, o vale do rio Itajaí-Açu, representado no mapa pelo nº 1, é periodicamente assolado pelas cheias que causam grandes prejuízos para a população da região.
02. A bacia hidrográfica do rio Araranguá, assinalada no mapa pelo nº 7, é a mais extensa da vertente Atlântica e nela encontramos o maior parque fabril catarinense.
04. Os recursos hídricos do sul catarinense, como os dos rios Tubarão (nº 5) e Urussanga (nº 6), ainda não estão poluídos e não ameaçam o abastecimento de água de diversas cidades da região.
08. O traçado dos rios dessa vertente teve influência no processo de colonização e no desenvolvimento das atividades humanas dessa área de Santa Catarina.
16. A conformação do relevo e conseqüentemente das bacias hidrográficas fez com que nessa vertente somente existissem cidades de porte médio, como é o caso de Blumenau, Lages e Chapecó.
32. Os numerosos rios da vertente litorânea catarinense determinaram o uso da hidrovia como o principal meio de transporte, como é o caso da intensa navegação realizada no rio Tijucas (nº 3).

07) ***“A cobertura florestal primitiva de Santa Catarina era de 81,5% e hoje está reduzida a apenas 14%. Somente na década de 70, o governo catarinense iniciou um processo de preservação de áreas verdes ainda existentes e de recuperação das áreas degradadas”.*** (Diário Catarinense, 05/06/97)

LEMBRE-SE DE **MARCAR** NO CARTÃO-RESPOSTA A **SOMA** DOS NÚMEROS ASSOCIADOS ÀS PROPOSIÇÕES VERDADEIRAS!

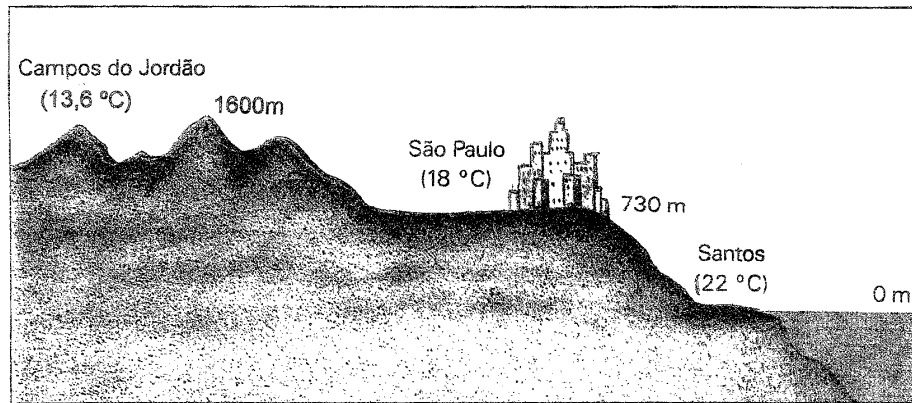


Considere o texto e o mapa acima e assinale a(s) proposição(ões) **VERDADEIRA(S)**.

01. O nº 1 indica a vegetação costeira ainda não destruída pela ação antrópica que aparece nos mangues, dunas, restingas, lagoas, deltas, praias, enseadas, baías e ilhas.
02. A exploração da madeira, o desmatamento e as queimadas para o desenvolvimento de atividades agro-pastoris, a produção de carvão vegetal, o avanço dos centros urbanos, são algumas causas da redução da Mata Atlântica, o nº 2 no mapa.
04. A área de campos e a floresta de araucária, representadas pelo nº 3, são as menos afetadas, mantendo-se integralmente como cobertura original.
08. O nº 4 representa a floresta subtropical do rio Uruguai e está hoje quase extinta, reflexo dos impactos intensos da presença humana e suas atividades econômicas.
16. A atuação da FATMA (Fundação de Amparo à Tecnologia e ao Meio Ambiente) se faz com um número adequado de fiscais, cuja qualificação profissional revela-se na atuação efetiva, tanto em nível de fiscalização quanto na educação ambiental da população.

08) Observe, atentamente, a figura abaixo e assinale a(s) proposição(ões) **CORRETA(S)**.

LEMBRE-SE DE **MARCAR** NO CARTÃO-RESPOSTA A **SOMA** DOS NÚMEROS ASSOCIADOS ÀS PROPOSIÇÕES VERDADEIRAS!



01. Situadas praticamente na mesma latitude, as cidades apresentadas na ilustração possuem temperaturas médias anuais diferentes em virtude da altitude.
02. As três cidades apresentam temperaturas médias anuais típicas de áreas em que domina o clima equatorial.
04. Localizada na Serra da Mantiqueira, Campos do Jordão apresenta temperaturas médias anuais inferiores às de cidades situadas na mesma latitude, porém em altitudes inferiores.
08. Santos, importante cidade portuária, tem sua temperatura influenciada apenas pela continentalidade, o que redundaria em maiores variações térmicas.
16. São Paulo, a maior metrópole brasileira, tem as temperaturas médias intermediárias entre as outras duas cidades devido à inversão térmica que ocorre em todas as estações do ano.

09) Com relação à atual situação agrária do Brasil, assinale a(s) proposição(ões) **VERDADEIRA(S)**.

01. A agricultura, que na época colonial estava voltada sobretudo para as exportações, volta-se, agora, exclusivamente, para as necessidades do mercado interno.
02. A modernização da agricultura brasileira diminuiu a desigualdade e a exclusão social no campo, e aumentou a produtividade em todas as áreas agrícolas do país.
04. “... **Tem muita gente sem terra. Tem muita terra sem gente**” são versos dos lavradores de Goiás, que se referem à realidade do campo brasileiro, onde, paralelamente à concentração da terra, dá-se também a expulsão dos trabalhadores rurais.
08. A agroindústria, no Centro-Sul, incentivada a partir da década de 70, ao atender os anseios dos sem-terra, conseguiu desmobilizar os trabalhadores rurais.
16. O sub-aproveitamento do espaço destinado às atividades do campo faz parte dos grandes problemas que envolvem a questão agrária em nosso país.

10) Observe as tabelas abaixo:

LEMBRE-SE DE **MARCAR** NO CARTÃO-RESPOSTA A **SOMA** DOS NÚMEROS ASSOCIADOS ÀS PROPOSIÇÕES VERDADEIRAS!

DISTRIBUIÇÃO DA RENDA ENTRE A POPULAÇÃO ATIVA

% DA POPULAÇÃO ATIVA	1960 (%)	1970 (%)	1980 (%)	1990 (%)
10% mais ricos	39,6	46,7	51,0	48,7
40% intermediários	43,0	38,4	36,3	39,9
50% mais pobres	17,4	14,9	12,7	11,4
FONTE: FIBGE				

SALÁRIO MÍNIMO VALOR REAL MÉDIA ANUAL
1940 = 100,00
1957 = 122,65
1960 = 100,30
1974 = 54,80
1981 = 63,34
1989 = 40,70
1990 = 29,09
1991 = 30,38
1992 = 26,07
1993 = 28,60
FONTE: DIEESE

As tabelas acima permitem concluir que:

01. de 1960 a 1980 a participação dos 10% mais ricos cresceu de 39,6% para 51,0%, o que evidencia uma melhoria na distribuição de renda nesse período.
02. em 1990, 90% da população ativa do Brasil, constituída pelos mais pobres e pelos intermediários, detinha 51,3% da renda nacional.
04. a tabela demonstra que nos últimos 30 anos os 40% intermediários aumentaram significativamente sua participação na distribuição da renda.
08. o crescimento econômico brasileiro nas últimas décadas, ao invés de eliminar a miséria, alargou o fosso entre os mais ricos e os mais pobres.
16. a queda acentuada que teve o salário mínimo brasileiro de 1940 a 1993, demonstra o arrocho salarial que vem sofrendo a classe trabalhadora.

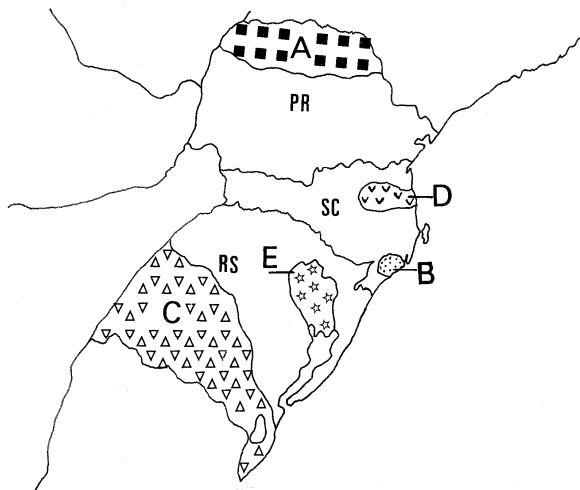
- 11) Com a industrialização e a chamada vida moderna, tudo se transforma, tudo é constantemente modificado em nome do "progresso". É o que vem ocorrendo, nos últimos anos, com um dos maiores e mais complexos ecossistemas do mundo, o Pantanal Matogrossense, onde os impactos da ocupação humana ameaçam o equilíbrio ambiental. Com relação a essa questão, pode-se afirmar que:

01. O Paraguai é o principal rio do Pantanal, responsável pelas inundações periódicas, que fazem da região, a maior planície alagada do Brasil.
02. Em razão das próprias condições ambientais na vastidão alagada do Pantanal, durante séculos, a natureza e uma pecuária tradicional conviveram pacificamente, numa demonstração de que há possibilidades de se desenvolver atividades econômicas sem destruir o ambiente.
04. O Pantanal cobre parte dos estados brasileiros do Mato Grosso e do Mato Grosso do Sul, porém, a sua maior parte estende-se pela Bolívia, pelo Paraguai e pelo Chile.
08. A vegetação pantaneira é bastante heterogênea, mesclando características de vários domínios macroecológicos brasileiros.
16. O moderno sistema viário da região, composto por rodovias, ferrovias e hidrovias, favoreceu o estabelecimento de indústrias e de numerosos núcleos urbanos, entre os quais destacam-se algumas megalópoles responsáveis pela destruição ambiental.

- 12) Observe, atentamente, o mapa abaixo, e assinale a(s) proposição(ões) **CORRETA(S)**.

LEMBRE-SE DE **MARCAR** NO CARTÃO-RESPOSTA A **SOMA** DOS NÚMEROS ASSOCIADOS ÀS PROPOSIÇÕES VERDADEIRAS!

REGIÃO SUL

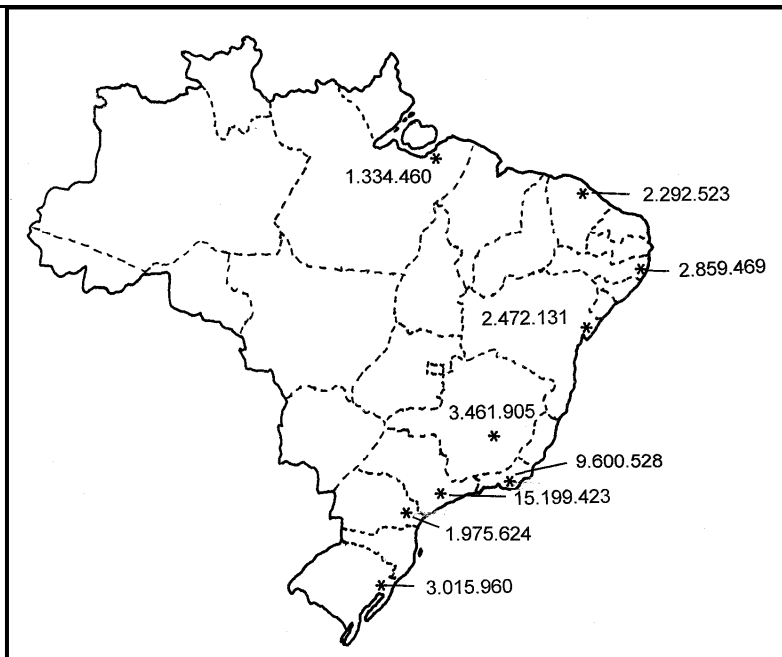


01. A região assinalada pela letra **A** corresponde ao norte do Paraná, que teve sua ocupação determinada pela expansão do cultivo do café, destacando-se as cidades de Londrina e Maringá.
02. A letra **C** corresponde a uma área de emigração européia, onde, tradicionalmente, desenvolvem-se culturas tropicais para o mercado externo.
04. A letra **B** indica uma área do estado de Santa Catarina, onde a extração do carvão mineral é a grande responsável pela degradação ambiental.
08. A letra **D** corresponde ao vale do Itajaí-Açu, onde a pequena produção mercantil, praticada por pequenos agricultores independentes, artesãos, operários e pequenos comerciantes, foi elemento fundamental para o processo de industrialização.
16. A letra **E** corresponde à região metropolitana de Porto Alegre, importante pólo industrial diversificado, que sempre foi a porta para o mar das áreas de colonização alemã e italiana, localizadas nas proximidades.

- 13)** Vivemos um momento histórico, marcado por um movimento de globalização e de integração dos mercados nacionais, em blocos econômicos regionais. Com relação a essa questão, assinale a(s) proposição(ões) **CORRETA(S)**.

01. A política de formação de blocos de nações, em zonas de comércio livres ou em mercados comuns, teve início com a criação da Comunidade Econômica Européia ou Mercado Comum Europeu, após a IIª Guerra Mundial.
02. O exemplo europeu espalhou-se pelo mundo, atingindo outros continentes, excetuando-se a América, onde os Estados Unidos sempre estimularam o fortalecimento das economias nacionais.
04. Na bacia do Pacífico, o bloco oriental encontra dificuldades para se afirmar devido à inexistência de uma potência capaz de assumir a liderança econômica e política da região.
08. O MERCOSUL constitui um bloco econômico regional em que o Brasil desponta como o país de maior extensão territorial, o mais populoso e o de maior produção.
16. O NAFTA (Acordo de Livre Comércio da América do Norte) integra num mesmo espaço econômico parceiros muito desiguais econômica, política e demograficamente.

- 14)** O mapa, a seguir, apresenta as regiões metropolitanas do Brasil. Com base nele e nos conhecimentos acerca dessa temática, assinale a(s) proposição(ões) **CORRETA(S)**.



01. Observando a localização das nove regiões metropolitanas, constata-se a importância que o modelo de economia exportadora brasileira teve na estruturação urbana do país.
02. São Paulo e Curitiba, mesmo não sendo cidades portuárias, organizaram um complexo sistema viário para romper com o obstáculo da Serra do Mar e atingir o litoral.
04. Entre as regiões metropolitanas apresentadas no mapa e as demais cidades brasileiras, identifica-se uma hierarquia urbana em que as cidades de São Paulo e Rio de Janeiro colocam-se em primeiro plano como metrópoles nacionais.
08. Das metrópoles assinaladas, duas localizam-se na região Sul, três na Sudeste, três na Nordeste e uma na Norte.
16. O processo de industrialização é o responsável pela aceleração do crescimento urbano, razão pela qual, conforme se constata pelo mapa, é na região Centro-Oeste que se concentram as maiores metrópoles brasileiras.

- 15)** Abaixo, estão descritas ocorrências que constituem problemas ambientais, que se generalizaram e extrapolaram grandemente os antigos limites. Leia-as com atenção e assinale a(s) proposição(ões) **VERDADEIRA(S)**.

01. A chuva ácida exemplifica um tipo de degradação ambiental global, próprio das sociedades tradicionais rurais.
02. O efeito estufa é um problema ambiental, ligado ao desenvolvimento, com efeito planetário.
04. A destruição das florestas tropicais diminui a rica biodiversidade, além de alterar o clima da área, com reflexos sobre outros espaços geográficos.
08. No Terceiro Mundo, no que diz respeito à maioria da população, concentra-se a poluição da miséria, caracterizada, por exemplo, pela fome, subnutrição, lixões, ausência de esgotos e de água potável.
16. A diminuição da camada de ozônio permite que a nociva radiação ultra-violeta atinja diretamente a Terra, aumentando a incidência de doenças da pele.

- 16)** *“Há dois lados na divisão internacional do trabalho: um em que alguns países especializam-se em ganhar, e outro em que se especializaram em perder. Nossa comarca do mundo, que hoje chamamos de América Latina, foi precoce: especializou-se em perder desde os remotos tempos em que os europeus*

LEMBRE-SE DE **MARCAR** NO CARTÃO-RESPOSTA A **SOMA** DOS NÚMEROS ASSOCIADOS ÀS PROPOSIÇÕES VERDADEIRAS!

do Renascimento se abalçaram pelo mar e fixaram os dentes em sua garganta. Passaram os séculos, e a América Latina aperfeiçoou suas funções”. GALEANO, Eduardo. As veias abertas da América Latina. (trad. de Galeno de Freitas), 21ª ed., Rio de Janeiro, Editora Paz e Terra, 1985, p. 13.

Com base no texto acima, assinale a(s) proposição(ões) CORRETA(S).

- 01. O domínio exercido pelos países do centro capitalista sobre os países latino-americanos dificultou o seu processo de industrialização.
- 02. A afirmativa do autor não se aplica mais à realidade atual, visto que as políticas neoliberais representam novas estratégias do capitalismo, que preservam o Estado nacional.
- 04. As economias periféricas, submetidas ao domínio das grandes potências, permanecem inseridas na divisão internacional do trabalho como meras fornecedoras de produtos primários.
- 08. O atual interesse dos Estados Unidos pelo mercado latino-americano comprova que a idéia veiculada pelo texto conserva a sua validade.
- 16. A divisão internacional do trabalho, hoje em vigor, apresenta como grandes ganhadores, o Japão e a Europa Ocidental, colocando na situação de perdedores todos os países americanos.

- 17) A República Popular da China foi proclamada a 1º de outubro de 1949. De lá para cá, muitas coisas mudaram. As mudanças recentes colocam-na entre os países que mais crescem atualmente.

Sobre esse país e as suas mudanças, é **CORRETO** afirmar que:

- 01. a China é o país mais populoso do mundo, muito embora registre, em certas áreas de seu imenso território, vazios demográficos, em razão das condições naturais.
- 02. a instalação das Zonas Econômicas Especiais (ZEEs) acentuou ainda mais as diferenças regionais e propiciou crescimentos desiguais dentro do próprio país.
- 04. a China, mesmo mantendo a estrutura básica do Estado Socialista, introduziu formas de cooperação com o capitalismo, permitindo a presença de bancos e grandes empresas.
- 08. tradicionalmente aliada do Japão, a China vem se desenvolvendo de forma acelerada, desde o final dos anos 70, através de um processo em que a abertura econômica é acompanhada da abertura política.
- 16. o setor portuário e os bancos constituem a base da economia de Hong Kong, território que foi administrado pelo Reino Unido e que em 1º de julho de 1997 foi devolvido à China.

- 18) Assinale a(s) proposição(ões) **VERDADEIRA(S)**.

- 01. Tal como a revolução técnico-científica do mundo atual, a Revolução Industrial, que teve lugar na Inglaterra, no final do século XVIII, propiciou apenas transformações técnicas.
- 02. O desenvolvimento industrial, apoiado na substituição de importações, foi realizado somente às custas do capital estrangeiro e da total dependência tecnológica.
- 04. O fordismo, importante na IIª Revolução Industrial e interpretado como sinônimo de linha de montagem, produção rápida e em grande escala, propagou-se também pelos países de capitalismo tardio.
- 08. O novo paradigma tecnológico é um dos fatores responsáveis pelos índices de desemprego nos países de capitalismo avançado.
- 16. A extinção das barreiras alfandegárias que protegem os mercados internos, desde o surgimento do capitalismo, foi condição fundamental para a industrialização de todos os países.

HISTÓRIA

- 19) A História tem demonstrado, ao longo do tempo, que as desigualdades sociais têm provocado conflitos

LEMBRE-SE DE **MARCAR** NO CARTÃO-RESPOSTA A **SOMA** DOS NÚMEROS ASSOCIADOS ÀS PROPOSIÇÕES VERDADEIRAS!

como o(a)

01. luta entre patrícios e plebeus, na antigüidade romana, resultando na conquista de um Código de Leis.
02. insubordinação dos servos aos senhores feudais, promovendo a extinção dos feudos.
04. insatisfação do “terceiro estado”, na França, pleiteando a igualdade de todos perante a lei.
08. reação do proletariado contra o sistema de injustiça, provocada pela Revolução Industrial.
16. Revolução Russa, pela situação de pobreza e exploração em que vivia a população.
32. movimento dos sem-terra, no Brasil, contra a má distribuição das propriedades rurais.

- 20) “Deixai os que outrora estavam a se baterem, impiedosamente contra os fiéis, em guerras particulares, lutarem contra os infiéis... Deixai os que até aqui foram ladrões, tornarem-se soldados. Deixai aqueles que outrora se bateram contra seus irmãos e parentes, lutarem agora contra os bárbaros como devem. Deixai os que outrora foram mercenários, a baixos salários, receberem agora a recompensa eterna. Uma vez que a terra que vós habitais, fechada por todos os lados pelo mar e circundada por picos e montanhas, é demasiadamente pequena para vossa grande população: a sua riqueza não abunda, mal fornece o alimento necessário aos seus cultivadores... Tomai o caminho do Santo Sepulcro; arrebatadi aquela terra à raça perversa e submetei-a a vós mesmos...”

HUBERMAN, Leo Papa Urbano II. História da riqueza do homem, in Mello, L.I.A. ed. COSTA, L.C.F. **História Antiga e Medieval**. Editora Scipione, p. 263.

O discurso proferido pelo papa Urbano II, na França, na época das Cruzadas, propunha que

01. as expedições fossem realizadas para combater os inimigos da Igreja, os infiéis.
02. os integrantes do movimento deveriam pertencer a uma classe nobre.
04. a participação tivesse, como recompensa, vultosa quantia em dinheiro.
08. a população ocidental se expandisse para outras áreas.
16. a meta a ser alcançada seria a conquista da Terra Santa.

- 21) Sobre o Renascimento cultural europeu, é **CORRETO** afirmar:



01. O homem passou a se dedicar mais a Deus do que a si próprio.

LEMBRE-SE DE **MARCAR** NO CARTÃO-RESPOSTA A **SOMA** DOS NÚMEROS ASSOCIADOS ÀS PROPOSIÇÕES VERDADEIRAS!

- 02. A classe burguesa desenvolveu a capacidade de competição aumentando a concorrência.
- 04. A resignação permaneceu como herança da mentalidade cristã medieval.
- 08. Os humanistas foram grandes admiradores da cultura greco-romana.
- 16. A visão racionalista do mundo foi substituída pela fé.

22) Após a Revolução, Napoleão Bonaparte tornou-se a figura mais importante da vida política da França. Sobre sua atuação no governo, é **CORRETO** assinalar:

- 01. Promoveu uma série de guerras, expandindo os domínios da França.
- 02. Impôs o idioma francês a todos os países conquistados.
- 04. Decidiu invadir Portugal, o que levou à fuga da Corte Portuguesa para o Brasil.
- 08. Conduziu suas tropas até a Rússia, culminando com a derrota da França.
- 16. Decretou o Bloqueio Continental, determinando que os países europeus fechassem seus portos ao comércio inglês.

23) A África, durante a sua história, vivenciou momentos de tensão e violência como a

- 01. exploração do negro, como mão-de-obra escrava, em outros continentes.
- 02. dominação imperialista pelas potências européias.
- 04. vigência de um regime de segregação racial entre negros e brancos.
- 08. miséria, sofrimento e morte decorrente das rivalidades entre grupos étnicos.
- 16. deposição do governo de Mobutu, no antigo Zaire.

24) A América Latina, nas últimas décadas, pode ser caracterizada pelo(a)

- 01. formação de Acordos, entre países, como o MERCOSUL.
- 02. política de controle da inflação, através da aplicação de planos econômicos, como no Brasil e na Argentina.
- 04. processo de privatização, de empresas estatais, em alguns países.
- 08. atuação de grupos terroristas, provocando pânico e violência, como no Peru.
- 16. abertura política em países anteriormente dominados pela ditadura.
- 32. dependência econômica a organismos financeiros internacionais.

LEMBRE-SE DE **MARCAR** NO CARTÃO-RESPOSTA A **SOMA** DOS NÚMEROS ASSOCIADOS ÀS PROPOSIÇÕES VERDADEIRAS!

25) A tecnologia moderna permitiu que, em 1991, a comunidade internacional assistisse ao vivo, pela televisão, o bombardeio ocorrido na Guerra do Golfo Pérsico. Foram fatos desse conflito:

01. Invasão e ocupação do Kuwait por tropas iraquianas.
02. Aprovação, pela ONU, de um bloqueio econômico ao Iraque.
04. Formação de uma aliança militar internacional para combater o Iraque.
08. Demonstração dos sofisticados equipamentos bélicos na operação militar.
16. Deposição de Saddam Hussein do governo iraquiano, ao final da guerra.

26) *“Ó mar salgado, quanto do teu sal
São lágrimas de Portugal!
Por te cruzarmos, quantas mães choraram!
Quantos filhos em vão rezaram!
Quantas noivas ficaram por casar
Para que fosses nosso, ó mar!*

*Valeu a pena? Tudo vale a pena
Se a alma não é pequena.
Quem quer passar além do Bojador
Tem que passar além da dor.
Deus ao mar o perigo e o abismo deu,
Mas nele é que espelhou o céu.”*

Fernando Pessoa, *in* VICENTINO, Cláudio.
História memória viva, Ed. Scipione, p. 16

O famoso poeta português, Fernando Pessoa, em seu poema, destaca

01. a ação dos navegadores.
02. a época dos descobrimentos marítimos.
04. as conquistas de Cristóvão Colombo.
08. a travessia pela costa africana.
16. os naufrágios a que os portugueses estavam sujeitos.
32. o sofrimento dos que na terra permaneciam.

27) O território brasileiro possui, atualmente, uma área de mais de 8.500.000 km². Isto foi devido

01. aos criadores de gado que levaram seus rebanhos para o interior.
02. às expedições militares que, no norte, garantiram o domínio português.
04. aos missionários que criaram aldeamentos indígenas por todo o litoral.
08. aos bandeirantes paulistas que saíram à procura de riquezas minerais.
16. à ação dos diplomatas brasileiros que trataram das questões de limite.

28) Sobre o movimento operário brasileiro, nas primeiras décadas da República, é **CORRETO** afirmar:

- 01. Os sindicatos do Brasil enviaram seus representantes para absorverem a ideologia européia.
- 02. O imigrante europeu divulgava no Brasil as idéias de seu país de origem.
- 04. O movimento operário era mais organizado em áreas onde se concentravam as indústrias.
- 08. Os anarquistas estrangeiros foram expulsos do Brasil.
- 16. Os comícios e passeatas dos operários contavam com a simpatia dos governantes.
- 32. As greves eram inexistentes, pois os salários eram razoáveis e boas as condições de trabalho.

29) Desenvolveu-se, no Brasil, em determinado período, uma prática política que ficou conhecida como a “república do café com leite”. Isso significa dizer que

- 01. os líderes políticos eram sempre escolhidos entre os fazendeiros paulistas.
- 02. a política do “café com leite” foi criada em oposição à do “feijão com arroz”, organizada pelos trabalhadores.
- 04. a presidência da República era ocupada, ora por políticos de São Paulo, ora por políticos de Minas Gerais.
- 08. as elites rurais dominavam o país.
- 16. os “barões do café”, na sua maioria, além de agricultores, tornaram-se industriais.

30) Marque a(s) proposição(ões) cujo(s) significado(s) está(ão) **CORRETO(S)**.

- 01. Anistia – condenação por crimes políticos.
- 02. Globalização – protecionismo aos meios de produção de cada país.
- 04. “Impeachment” – impedimento e afastamento do cargo, imposto a um governante.
- 08. Reforma Agrária – transformação das propriedades rurais em empresas mecanizadas.
- 16. Inflação – emissão volumosa de dinheiro com a conseqüente elevação de preços.

31) Sobre a interrupção dos mandatos dos Presidentes, assinale o que for **CORRETO**.

- 01. Fernando Collor fugiu para Miami para não ter seus direitos políticos cassados.
- 02. Deodoro da Fonseca renunciou ao cargo de primeiro Presidente do Brasil republicano.
- 04. Juscelino Kubitschek faleceu em acidente automobilístico.
- 08. Jânio Quadros renunciou ao cargo, alegando que “forças terríveis” levantaram-se contra ele.
- 16. João Goulart foi deposto por militares em 1964.
- 32. Getúlio Vargas suicidou-se após divergências internas.

32)

Fim de Feira

“No hipersupermercado aberto de detritos, ao barulhar de caixotes em pressa de suor, mu-

LEMBRE-SE DE **MARCAR** NO CARTÃO-RESPOSTA A **SOMA** DOS NÚMEROS ASSOCIADOS ÀS PROPOSIÇÕES VERDADEIRAS!

Iheres magras e crianças rápidas catam a maior laranja podre, a mais bela batata refugada, juntam no passeio seu estoque de riquezas, entre risos e gritos.”

ANDRADE, Carlos Drummond de. **As impurezas do branco**. Rio de Janeiro / Brasília, Ed. José Olympio, INL, 1978, p. 113.

O texto acima lembra que

01. a pobreza existe na zona urbana.
02. a desigualdade social é uma realidade.
04. os avanços tecnológicos não acabaram com a fome.
08. o desnível entre a fartura e a escassez cresce cada vez mais.
16. o desemprego e os baixos salários comprometem a qualidade de vida.

33) A diversidade étnica da sua população fez de Santa Catarina um Estado formado, dentre outros, por:

01. açorianos que se estabeleceram no litoral.
02. alemães cujos descendentes permanecem, principalmente, em Blumenau, Brusque e Joinville.
04. italianos que chegaram ao sul do Estado, ocupando os vales dos rios Tubarão, Urussanga e Araranguá.
08. poloneses que, cultivando alho e maçã, fixaram-se no planalto catarinense.
16. japoneses que, fugindo da constante instabilidade política em seu país, localizaram-se na região do extremo-oeste.

34) A partir do início do século XX, é significativa a presença de elementos oriundos do Rio Grande do Sul no território catarinense. Os gaúchos são encontrados

01. colonizando as terras do norte e do leste do Estado.
02. administrando fazendas no planalto.
04. mantendo os Centros de Tradição Gaúcha.
08. exercendo atividades comerciais.
16. atuando nos mais diversos campos profissionais.

35)

RANCHO DO AMOR À ILHA

Um pedacinho de terra
Perdido no mar
Num pedacinho de terra
Belezas sem par
Jamais a natureza
Reuniu tanta beleza
Jamais algum poeta
Teve tanto prá cantar
Num pedacinho de terra
Belezas sem par.

Ilha da moça faceira
Da velha rendeira, tradicional
Ilha da velha figueira
Onde em tarde fagueira
Vou ler meu jornal
Tua lagoa formosa
Ternura de rosa
Poema ao luar
Cristal onde a lua vaidosa
Sestrosa, dengosa
Vem se espelhar.

O Hino Oficial de Florianópolis, de autoria de Cláudio Alvim Barbosa – Zininho –, transcrito acima, homenageia a terra e sua gente, cuja cultura e tradição se manifestam através da(s)

01. religiosidade como na Festa do Divino e na Procissão de Nosso Senhor Jesus dos Passos.
02. histórias e “causos” que falam do desconhecido, de assombração e feitiçarias.
04. artes manuais como a renda de bilro.
08. “farra do boi” que tem causado tanta polêmica.
16. expressão “manezinho da Ilha”, que caracteriza o verdadeiro ilhéu.
32. comida típica, à base de frutos do mar.

36) Nos últimos anos, Santa Catarina tem se destacado no esporte, trazendo ao Brasil importantes conquistas.

01. Na natação, Fernando Scherer tornou-se campeão mundial.
02. No surfe, os irmãos Teco e Neco Padaratz brilham nas ondas internacionais.
04. No voleibol, Ana Moser e Carlos Schwanke nos deixam orgulhosos.
08. No futebol, Ronaldinho foi considerado o melhor jogador do mundo.
16. No tênis, Gustavo Kuerten emocionou o Brasil.

REDAÇÃO

LEMBRE-SE DE **MARCAR** NO CARTÃO-RESPOSTA A **SOMA** DOS NÚMEROS ASSOCIADOS ÀS PROPOSIÇÕES VERDADEIRAS!

I – INSTRUÇÕES

1. Elabore uma redação que tenha, no mínimo, vinte (20) e, no máximo, trinta (30) linhas.
 2. Utilize, inicialmente, a folha de rascunho.
 3. Dê um título à sua redação.
 4. Lembre-se de que você deve:
 - a) ocupar as linhas de uma a outra margem, na folha definitiva, respeitando os espaços dos parágrafos;
 - b) empregar linguagem clara e de acordo com a norma culta;
 - c) escrever em letra legível;
 - d) usar **somente** caneta com tinta **azul** ou **preta**.
 5. Não será aceita redação em versos.
 6. Evite utilizar, no corpo da redação, o texto dado.
- II – Leia o texto a seguir, que é um fragmento da música “Estudo Errado”, de Gabriel o Pensador. Com base nesse tema, redija uma **dissertação**. Lembre-se de apresentar uma tese (proposição) que seja coerente e os argumentos que a evidenciam.

estudo errado

Eu tô aqui Pra quê? Será que é pra aprender? Ou será que é pra aceitar, me acomodar e obedecer? Mas meus pais só querem que eu “vá pra aula!” e “estude!” Tô cansado de estudar, de madrugar, que sacrilégio (Vai pro colégio!!) Então eu fui relendo tudo até a prova começar Voltei, louco pra contar: **Manhê! Tirei um dez na prova Me dei bem tirei um cem e eu quero ver quem me reprova Decorei toda a lição Não errei nenhuma questão Não aprendi nada de bom Mas tirei dez (boa filhão!)**

**FOLHA DE RASCUNHO**

TRANSCREVA A REDAÇÃO PARA A FOLHA PRÓPRIA!

LEMBRE-SE DE **MARCAR** NO CARTÃO-RESPOSTA A **SOMA** DOS NÚMEROS ASSOCIADOS ÀS PROPOSIÇÕES VERDADEIRAS!

